



Марко БЕДЕНКО

ВЧИМОСЯ ОРІЄНТУВАТИСЯ В ПРОСТОРИ

ЗАВДАННЯ З КАЛЬКОЮ



ТЕРНОПІЛЬ
НАВЧАЛЬНА КНИГА – БОГДАН

УДК 51(075.2)
ББК 21.1я70
Б 38

Серію засновано 2010 року

Беденко М. В.
Б 38 Вчимося орієнтуватися в просторі. Завдання з калькою / М. В. Беденко. —
Тернопіль : Навчальна книга – Богдан, 2022. — 12 с. — (Серія «Готуємося
до школи»).

ISBN 978-966-10-6981-6

Пропоновані завдання розвивають уміння орієнтуватися в просторі, увагу,
спостережливість та логічне мислення дітей дошкільного віку.

Серія книг «Готуємося до школи» відповідає освітній лінії «Дитина в сенсорно-
пізнавальному просторі» Базового компонента дошкільної освіти.

УДК 51(075.2)
ББК 21.1я70

*Охороняється законом про авторське право.
Жодна частина даного видання не може бути
відтворена в будь-якому вигляді без дозволу
автора чи видавництва.*

Навчальне видання

Серія “Готуємося до школи”

БЕДЕНКО Марко Васильович

**ВЧИМОСЯ ОРІЄНТУВАТИСЯ В ПРОСТОРІ
ЗАВДАННЯ З КАЛЬКОЮ**

*Головний редактор Богдан Будний
Редактор Вікторія Дячун
Обкладинка Володимира Басалиги
Комп’ютерна верстка Віталія Кравчука
Технічний редактор Оксана Чучук*

Підписано до друку 23.02.2021. Формат 60x84/8. Папір офсетний. Гарнітура Pragmatica
Умовн. друк. арк. 1,40. Умовн. фарбо-відб. 5,60.

Видавництво «Навчальна книга – Богдан»
Свідоцтво про внесення суб’єкта видавничої справи до Державного реєстру видавців,
виготівників і розповсюджувачів видавничої продукції
ДК № 4221 від 07.12.2011 р.

Навчальна книга – Богдан, просп. С. Бандери, 34а, м. Тернопіль, 46002
Навчальна книга – Богдан, а/с 529, м. Тернопіль, 46008
тел./факс (0352)52-06-07; 52-19-66; 52-05-48
office@bohdan-books.com www.bohdan-books.com

ISBN 978-966-10-6981-6

© Навчальна книга – Богдан, 2022


1

Мавпочці, яка вилізла на найвищу пальму, домалюй красивий бант.



2


Знайди сходинку, вище від якої розміщена лише одна сходинка. Намалюй на ній м'ячик. Хто із зображених тваринок знаходиться найдалі від м'ячика?






3

Мураха на повітряних кульках піднімається вгору, а мураха на парашуті спускається вниз. Обведи мураху, яка летить угору.



4

Пташка живе не на найвищій і не на найнижчій гілці. Намалюй кружечок біля гнізда, в якому живе пташка.



Кінець безкоштовного уривку. Щоби читати далі,
придбайте, будь ласка, повну версію книги.