

Н.О. Будна

МАТЕМАТИКА

РОБОЧИЙ ЗОШИТ

1 клас

Частина 1

*Схвалено для використання у загальноосвітніх навчальних закладах
комісією з педагогіки та методики початкового навчання
Науково-методичної ради з питань освіти
Міністерства освіти і науки України*



ТЕРНОПІЛЬ
НАВЧАЛЬНА КНИГА – БОГДАН

УДК 51:372.4
Б 90

Рецензенти:

Гладюк Т.В., кандидат педагогічних наук, доцент
Онишків О.П., вчитель вищої категорії, вчитель-методист

*Схвалено для використання у загальноосвітніх навчальних закладах
комісією з педагогіки та методики початкового навчання
Науково-методичної ради з питань освіти Міністерства освіти і науки України
(лист ІМЗО від 30.07.2018 р. № 22.1/12-Г-586)*

Будна Н.О.

Б 90 Математика : робочий зошит : 1 кл. : Ч. 1. / Н.О. Будна. — Тернопіль : Навчальна книга – Богдан, 2021. — 64 с. : вкл.

ISBN 978-966-10-5497-3

Зошит з математики для 1 класу містить навчальний матеріал, який відповідає Державному стандарту початкової освіти, Типовим освітнім програмам та підручнику «Математика. 1 клас» (авт. Будна Н.О.).

Запропоновано вправи для вироблення навичок каліграфічного письма, різні за складністю завдання для самостійної роботи та завдання творчого характеру.

Цікавим доповненням є кольорова вкладка з іграми та лічильним матеріалом.

Зошит призначено для учнів 1-го класу.

УДК 51:372.4

Охороняється законом про авторське право. Жодна частина цього видання не може бути відтворена в будь-якому вигляді без дозволу видавництва.

УВАГА!

Завантажуйте безкоштовний інтерактивний додаток, використовуючи детальну інструкцію, за посиланням:

bohdan-digital.com/009609



Технічна підтримка: (0352) 52-06-07, 067-352-09-89;
admin@bohdan-digital.com


ISBN 978-966-10-5497-3

© Будна Н.О., 2021


© Навчальна книга – Богдан, виключна ліцензія на видання, оригінал-макет, 2021

Властивості та відношення.
Ознайомлення з числами першого десятка
Предмет. Фігура. Числа від 1 до 5

1. Скільки предметів зображено? Розфарбуй ті з них, які потрібні для навчання.



2. Полічи, скільки чорнобривців на малюнку. Скільки троянд? Скільки бджілок? Запиши відповідну кількість паличок за зразком.



3. Домалюй стільки м'ячиків, щоб їх стало п'ять.




4. —•—•—•—•—•—
* * * * *




Більше. Менше. Стільки ж


1. Чого більше: морквинок чи бурячків? Обведи.



2. Кого менше? Обведи. На скільки менше?



3. Кого зображено стільки, скільки метеликів?
Напиши стільки ж паличок.



4.



Попереду. Позаду. Над. Під. На


1. Хто попереду? Обведи червоним кольором. Хто позаду? Обведи синім.

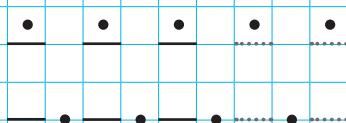


2. Хто над дзвіночком? Хто під дзвіночком? Домалюй ще одного метелика над квіточкою.



3. Розфарбуй зображення тваринки, яка знаходиться позаду кози.





4. 



Вгору. Вниз. Вище. Нижче

1. Що летить угору? Що спускається вниз? Зобрази стрілкою.




2. Хто де знаходиться? Хто на дереві вище? Хто нижче?



3. Намалюй три квіточки: червону — найвищу, а жовту — нижчу за синю.



4.  / / / / / / / / / / / / / / / /

Зліва. Справа. Посередині.
Направо. Наліво. Число 6

1. Що розміщено у шафі зліва? справа? посередині?
зверху? Скільки поясів? Полічи.



2. Розфарбуй прапорець кораблика жовтим кольором. Полічи, скільки чайок літає. Домалюй стільки пташок, щоб їх стало 6.



3.



Кінець безкоштовного уривку. Щоби читати далі, придбайте, будь ласка, повну версію книги.