

Т.Б. Будна

МАТЕМАТИКА

4+




ТЕРНОПІЛЬ
НАВЧАЛЬНА КНИГА – БОГДАН

Один. Багато

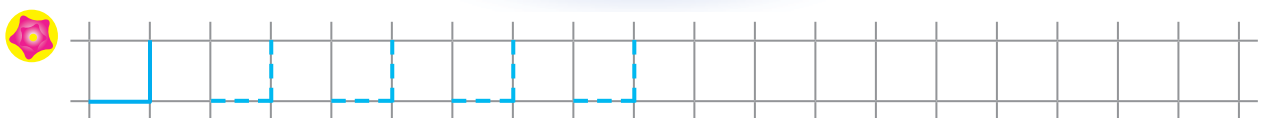
- Розглянь малюнок. Обведи червоним олівцем предмети, що зображені по одному.



- Розфарбуй предмет, який на малюнку один.


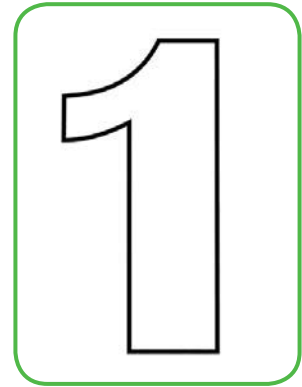



- Зміни малюнок так, щоб зірочок на небі стало багато.



Число і цифра 1





Скільки на малюнку каченят? Скільки розігнутих пальців на руці? Зафарбуй цифру 1. Покажи предмети, на яких ти бачиш цю цифру.



Обведи предмет, який на малюнку один.

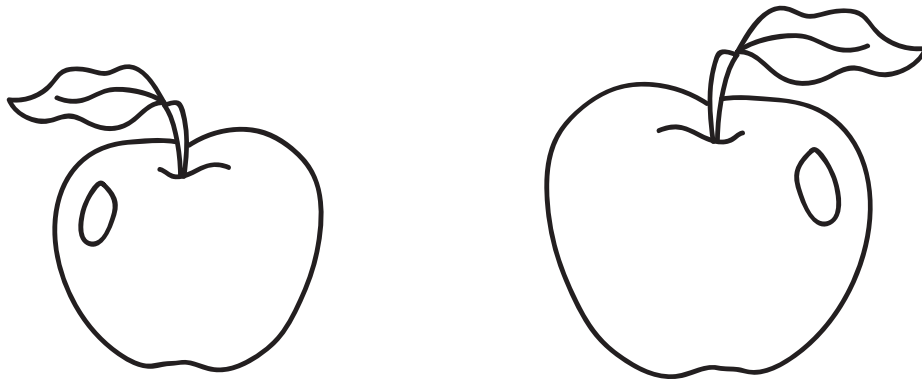


З'єднай лініями цифру 1 із малюнками, на яких зображено по одному предмету.




Більше. Менше. Стільки ж. Однакова кількість

Розфарбуй більше яблуко.




Обведи предмети, яких зображено менше. Скільки таких предметів?



Напиши стільки ж паличок, скільки зображено хмаринок.




Домалюй стільки кружечків, щоб в обох рядках їх була однакова кількість.



Число і цифра 2

По скільки лапок мають зображені птахи? Скільки розігнутих пальців на руці? Зафарбуй цифру 2. Покажи предмети, на яких ти бачиш цю цифру.



Обведи предмети, яких зображено по два.



Домалюй хлопчикові у правій руці дві кульки, а в лівій — одну.




Кількісна і порядкова лічба в межах 2

Полічи, скільки предметів зображено на малюнку.



Розглянь малюнок. Якою по порядку стоїть білочка? А їжачок? Хто стоїть останнім? Хто знаходиться між білочкою і зайчиком?



Зафарбуй кожен другий квадратик зеленим кольором.



Кінець безкоштовного уривку. Щоби читати далі,
придбайте, будь ласка, повну версію книги.