

Т.Б. Будна


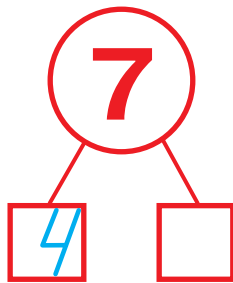

МАТЕМАТИКА

6+



ТЕРНОПІЛЬ
НАВЧАЛЬНА КНИГА – БОГДАН


✿ Встав пропущені числа.



Спекли

З'їли



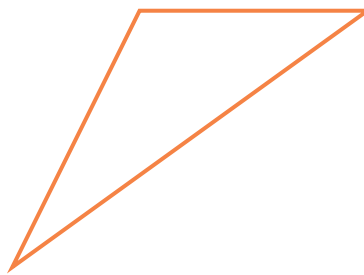


Залишилося



$$\square \square - \square \square = \square$$



Назви зображені геометричні фігури. Розфарбуй (або заштрихуй) фігури, у яких три кути.



Запиши й обчисли.



	+		=		
--	---	--	---	--	--



	+		=	
--	---	--	---	--



	-		=	
--	---	--	---	--



	-		=	
--	---	--	---	--

У першому
кошику



У другому
кошику

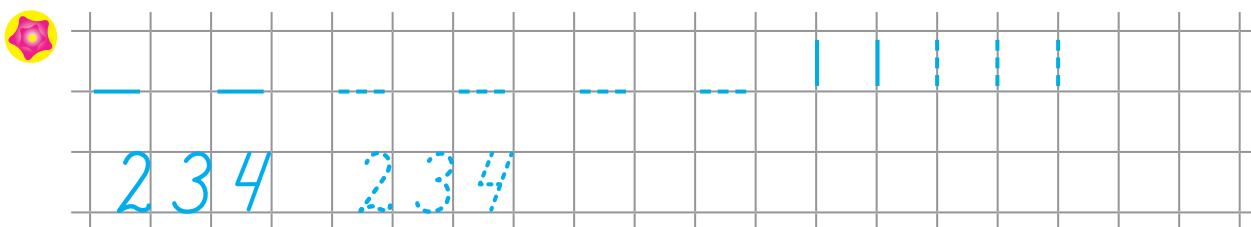





Всього



			=	
--	--	--	---	--

Домалюй стільки геометричних фігур, щоб у кожній рамочці їх стало по 4.



Кінець безкоштовного уривку. Щоби читати далі,
придбайте, будь ласка, повну версію книги.