

Н.О. Будна



Нова
українська
школа

МАТЕМАТИКА

робочий зошит

1 клас

Частина **1**

ІНТЕРАКТИВНИЙ ДОДАТОК

+ВКЛАДКА

● ІГРИ

● ЛІЦІЛЬНИЙ МАТЕРІАЛ



До підручника Н.О. Будної

Н.О. Будна

МАТЕМАТИКА

РОБОЧИЙ ЗОШИТ

1 клас

Частина 1

*Схвалено для використання у загальноосвітніх навчальних закладах
комісією з педагогіки та методики початкового навчання
Науково-методичної ради з питань освіти
Міністерства освіти і науки України*



ТЕРНОПІЛЬ
НАВЧАЛЬНА КНИГА – БОГДАН

УДК 51:372.4
ББК 22.1я71
Б 90

Рецензенти:

Гладюк Т.В., кандидат педагогічних наук, доцент
Онишків О.П., вчитель вищої категорії, вчитель-методист

*Схвалено для використання у загальноосвітніх навчальних закладах
комісією з педагогіки та методики початкового навчання
Науково-методичної ради з питань освіти Міністерства освіти і науки України
(лист ІМЗО від 30.07.2018 р. № 22.1/12-Г-586)*

Будна Н.О.

Б 90 Математика : робочий зошит : 1 кл. : Ч. 1. / Н.О. Будна. — Тернопіль : Навчальна книга – Богдан, 2018. — 64 с. : вкл.

ISBN 978-966-10-8507-6

Зошит з математики для 1 класу містить навчальний матеріал, який відповідає Державному стандарту початкової освіти, типовим освітнім програмам та підручнику «Математика. 1 клас» (авт. Будна Н.О.).

Запропоновано вправи для вироблення навичок каліграфічного письма, різні за складністю завдання для самостійної роботи та завдання творчого характеру.

Цікавим доповненням є кольорова вкладка з іграми та лічильним матеріалом.

Зошит призначено для учнів 1-го класу.

УДК 51:372.4
ББК 22.1я71

*Охороняється законом про авторське право.
Жодна частина цього видання не може бути відтворена
в будь-якому вигляді без дозволу видавництва.*

УВАГА!

Завантажуйте безкоштовний інтерактивний додаток,
використовуючи детальну інструкцію, за посиланням:


bohdan-digital.com/009609




Технічна підтримка: (0352) 52-06-07, 067-352-09-89;
admin@bohdan-digital.com

Властивості та відношення.
Ознайомлення з числами першого десятка
 Предмет. Фігура. Числа від 1 до 5


1. Скільки предметів зображено? Розфарбуй ті з них, які потрібні для навчання.



2. Полічи, скільки чорнобривців на малюнку. Скільки троянд? Скільки бджілок? Запиши відповідну кількість паличок за зразком.



3. Домалюй стільки м'ячиків, щоб їх стало п'ять.




4.
 * * ✖ ✖ ✖




Більше. Менше. Стільки ж


1. Чого більше: морквинок чи бурячків? Обведи.



2. Кого менше? Обведи. На скільки менше?



3. Кого зображено стільки, скільки метеликів?
Напиши стільки ж паличок.



4.



Кінець безкоштовного уривку. Щоби читати далі, придбайте,
будь ласка, повну версію книги.